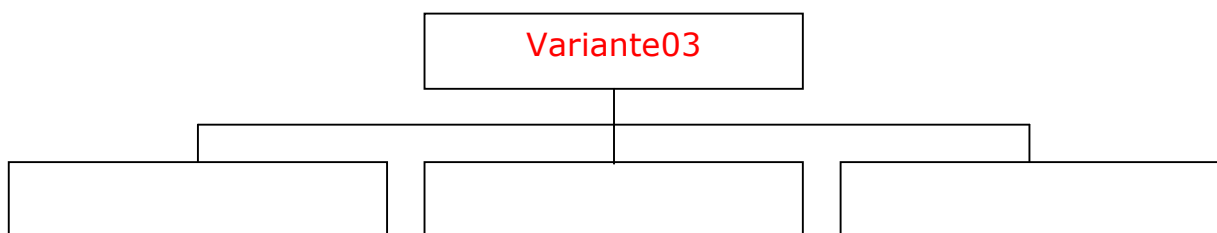
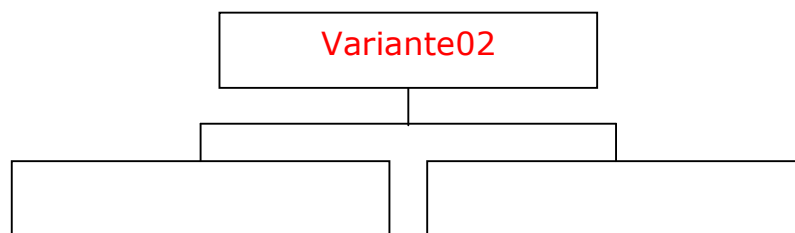
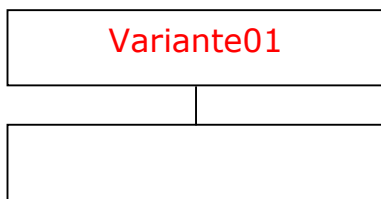
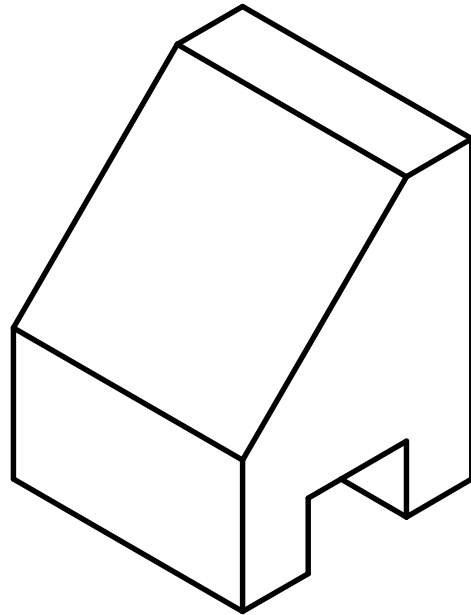



### Aufgabe:

Ein Quader mit Schräge und Nut soll in 3D-CAD erzeugt werden (siehe auch AB E1 - 11).  
Modelliere drei Varianten, so dass das 3D-Dokument aus einem, zwei und drei  
Objekten besteht. Speichere drei verschiedene Dateien ab. Leite auf ein A4-Blatt ein  
Dreitafelbild mit Raumbild ab. Eignen sich die Varianten in gleicher Weise?  
Wäge Vor- und Nachteile der Varianten ab.



Grundlagen des Computer Aided Design		3D-Körper und 2D-Ableitung -2	Nr.
 AB 242-11	Datum:	Name:	Kl.