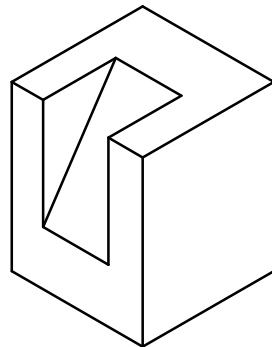
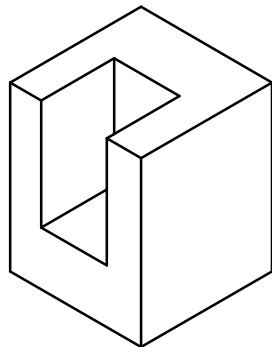
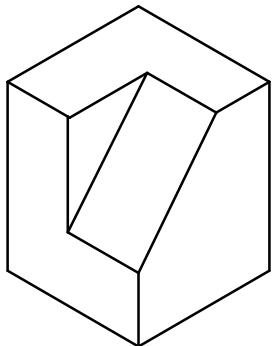
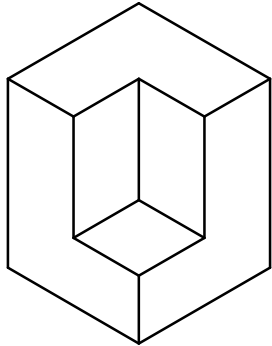



**Aufgabe:**

Erzeuge die vier Werkstücke so in 3D, dass das Grundobjekt Quader immer wieder verwendet wird.

Stelle diese rationelle Variantenkonstruktion in einem Objektmodell dar.



Grundlagen des Computer Aided Design		Variantenkonstruktion	Nr.
 AB 242-15	Datum:	Name:	Kl.