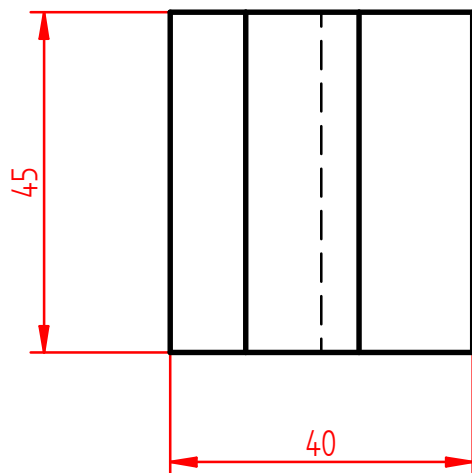
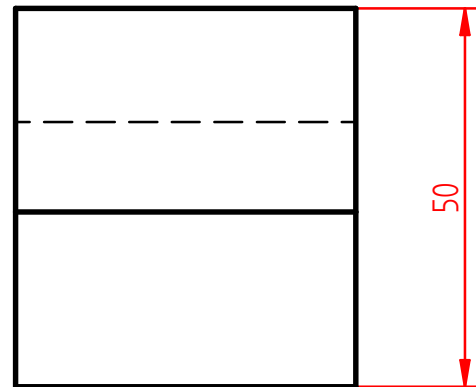
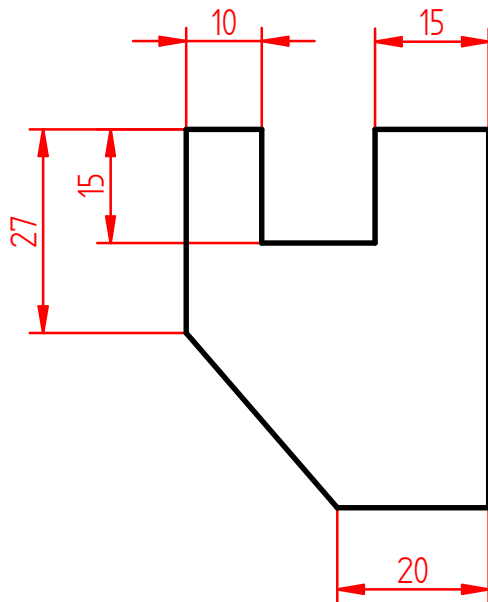


Aufgabe:

Gegeben ist das vollständige Dreitafelbild eines Werkstücks.

Stelle es als Werkzeichnung mit normgerechter Bemaßung dar. Erzeuge ein CAD-Modell.



Normgerechtes Konstruieren

Werkzeichnung -1

Nr.



AB 243 - 13

Datum:

Name:

Kl.