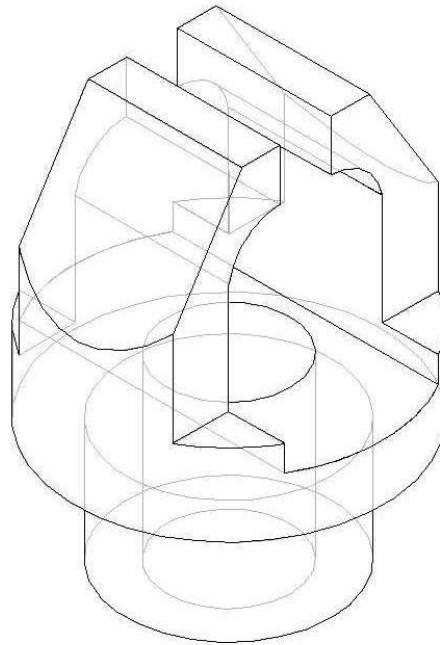


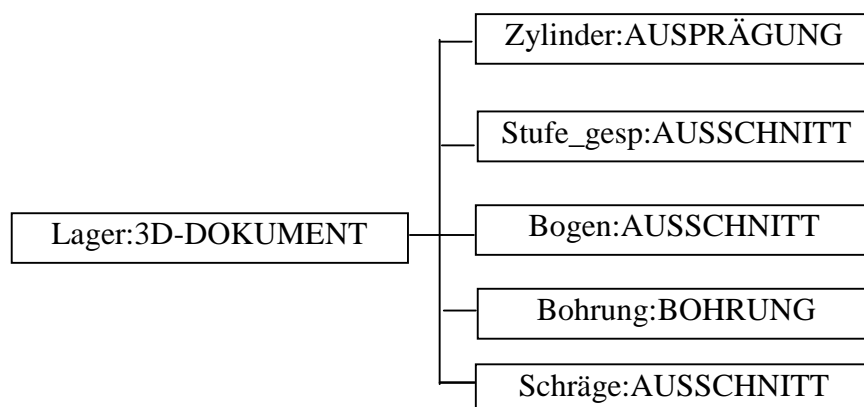
Aufgabe:


Gegeben ist die Skizze eines Stützbocks.

1. Analysiere die Aufgabe mit Hilfe eines Objektmodells.
2. Erzeuge ein 3D-Modell mit selbst gewählten Maßen.
3. Leite ein Dreitafelbild mit Raumbild ab und fertige eine Werkzeichnung.



Objektbaum (Lösungsvorschlag - orientiert am Programm Solid Edge)



Durchdringungskörper und 3D-Baugruppen		Stützbock	Nr.
 AB 244 - 03	Datum:	Name:	Kl.