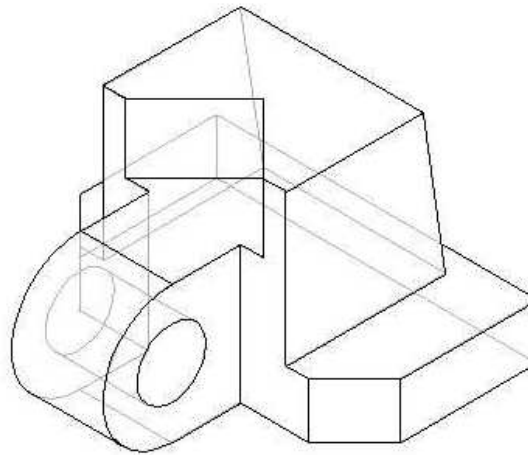


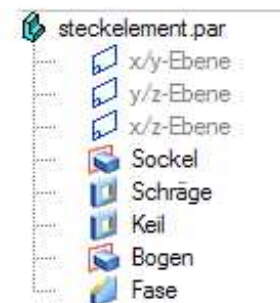

Aufgabe:


Gegeben ist die Werkzeichnung eines Steckelements
Skizziere ein Raumbild und erzeuge ein 3D-Modell.

Skizze
(Lösungsvorschlag)



3D-Modell (Lösungsvorschlag - orientiert am Programm Solid Edge)



Durchdringungskörper und 3D-Baugruppen		Steckelement	Nr.
 AB 244 - 04	Datum:	Name:	Kl.