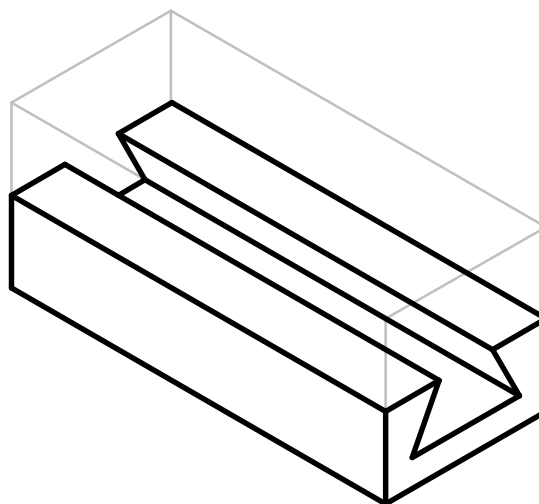
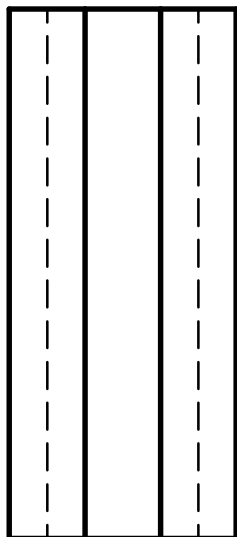
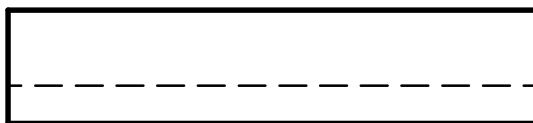
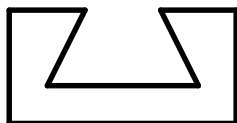


**Aufgabe:**

Zeichne das Gegenstück und erzeuge die Baugruppe in 3D.



Durchdringungskörper und 3D-Baugruppen

Stück und Gegenstück

Nr.



AB 244 - 06

Datum:

Name:

Kl.