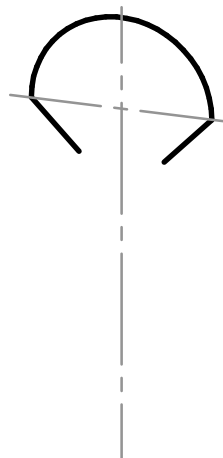
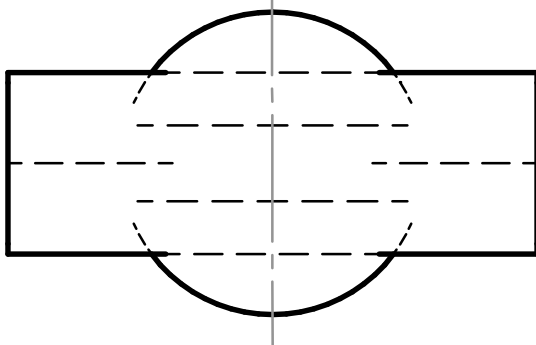
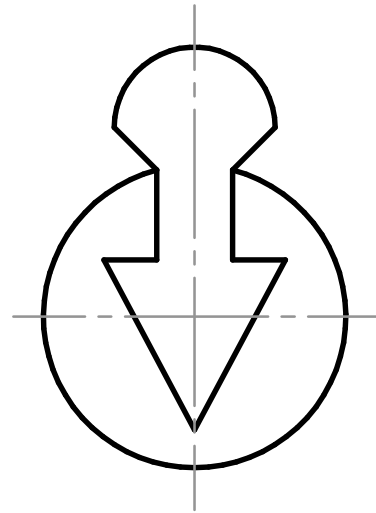
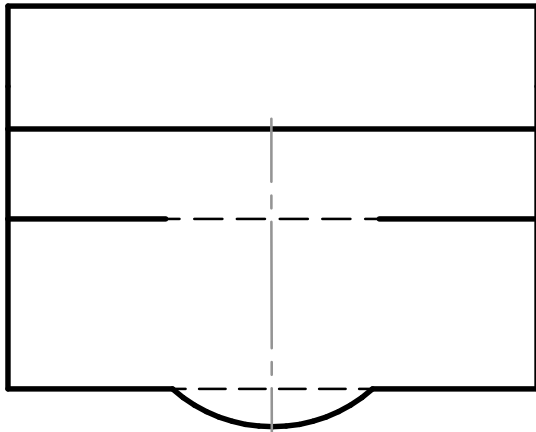


Aufgabe:

Gegeben ist eine Kugeldurchdringung

Vervollständige die Ansichten und skizziere ein Raumbild. Erzeuge ein bewegliches 3D-Modell.



Durchdringungskörper und 3D-Baugruppen

Kugeldurchdringung

Nr.



AB 244 - 15

Datum:

Name:

Kl.