



2.5.1 Datennetze I

Arbeitsblatt 12: Zusammenfassende Aufgaben zu den OSI-Schichten 3 und 4

Zusammenfassende Aufgaben zu den Schichten 3 und 4 des OSI-Modells

Bei dem Windows-Befehlszeilenkommando `ipconfig /all` werden lokale IPv6-Adressen mit einem Prozentzeichen und der Angabe der Schnittstelle (Interface-ID). Damit zeigt Windows an, für welchen Netzwerkadapter diese Adresse gilt:

```
C:\Windows\system32\cmd.exe
Physikalische Adresse . . . . . : C4-17-FE-60-E5-78
DHCP aktiviert. . . . . : Ja
Autokonfiguration aktiviert . . . : Ja
IPv6-Adresse . . . . . : 2003:61:e802:1:150c:dd53:b804:688<Bevorzu
Temporäre IPv6-Adresse . . . : 2003:61:e802:1:39db:4a2d:31df:d968<Bevorz
Verbindungslokale IPv6-Adresse . : fe80::150c:dd53:b804:688%28<Bevorzugt>
IPv4-Adresse . . . . . : 192.168.2.103<Bevorzugt>
Subnetzmaske . . . . . : 255.255.255.0
Standardgateway . . . . . : fe80::1%28
                             192.168.2.1
DHCP-Server . . . . . : 192.168.2.1
DNS-Server . . . . . : fe80::1%28
                             192.168.2.1
NetBIOS über TCP/IP . . . . . : Aktiviert
```

1. Erläutere die Angaben in dem Screenshot.

- Physikalische Adresse: _____
- DHCP: Das Dynamic Host Configuration Protocol _____
- Autokonfiguration und Verbindungslokale Adresse: Link-Lokale-Adresse, die für jeden Adapter zur _____
- (Temporäre) IPv6-Adresse: Global Unicast – Adressen (GUA) _____
- IPv4-Adresse und Subnetzmaske: Beim Classless Inter-Domain Routing (CIDR) wird mit der Subnetzmaske die IP-Adresse in einen Netzwerk- und _____
- Standardgateway und DNS-Server: Lokale IPv6- und IPv4-Adresse des Geräts, _____
- NetBIOS über TCP/IP: Das in älteren Windows-Versionen zur Nutzung von Netzwerken zuständige Protokoll NetBIOS ist z. B. auch in Windows 7 oder Windows 8 noch vorhanden.

Unabhängig von einer Internetverbindung kann die IPv6-Konnektivität durch ein Ping an die Link-lokale Adresse eines Geräts getestet werden:

```
C:\Windows\system32\cmd.exe
C:\>ping fe80::150c:dd53:b804:688

Ping wird ausgeführt für fe80::150c:dd53:b804:688 mit 32 Bytes Daten:
Antwort von fe80::150c:dd53:b804:688: Zeit<1ms
Antwort von fe80::150c:dd53:b804:688: Zeit<1ms
Antwort von fe80::150c:dd53:b804:688: Zeit<1ms
Antwort von fe80::150c:dd53:b804:688: Zeit<1ms

Ping-Statistik für fe80::150c:dd53:b804:688:
    Pakete: Gesendet = 4, Empfangen = 4, Verloren = 0
    (0% Verlust),
```



2.5.1 Datennetze I

Arbeitsblatt 12: Zusammenfassende Aufgaben zu den OSI-Schichten 3 und 4

Ein Ping zu einer Internetadresse liefert bei bestehender IPv6-Konnektivität auch gleich die IPv6-Adresse des Zielservers, wenn dieser dies zulässt:

```

C:\Windows\system32\cmd.exe
C:\>ping www.heise.de


Ping wird ausgeführt für www.heise.de [2a02:2e0:3fe:100::7] mit 32 Bytes Daten:
Antwort von 2a02:2e0:3fe:100::7: Zeit=22ms
Antwort von 2a02:2e0:3fe:100::7: Zeit=23ms
Antwort von 2a02:2e0:3fe:100::7: Zeit=23ms
Antwort von 2a02:2e0:3fe:100::7: Zeit=23ms

Ping-Statistik für 2a02:2e0:3fe:100::7:
Pakete: Gesendet = 4, Empfangen = 4, Verloren = 0
<0% Verlust>,
  
```

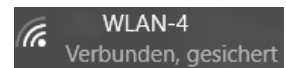
- Im Browser erscheint eine Fehlermeldung wie z. B. „Keine Verbindung zum Internet“. Führe die Schritte, die du zur Fehlersuche ausführen solltest, am PC aus. Eventuell steht dir zusätzlich auch ein Smartphone oder Tablet-PC zur Verfügung. Ergänze dabei die Erläuterungen.

- Physikalische Verbindung überprüfen (OSI-Schichten _____), insbesondere:

- LAN: Am Rechner muss an der Netzwerk-Buchse _____
Am Switch (der auch Teil eines WLAN-Routers sein kann) ebenso.
Ansonsten tauschst du nach und nach die Kabel.



- WLAN: Besteht eine _____
Wenn nicht, kontrolliere, ob das WLAN aktiviert ist und versuche, eine Drahtlosnetzwerkverbindung herzustellen.



- Wenn das keinen Erfolg hat, stelle eine LAN-Verbindung mit Hilfe eines Patchkabels her.

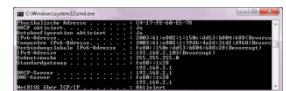
- Hat der Netzwerkadapter eine _____ erhalten (OSI-Schicht __)?

Führe das Befehlszeilenkommando `ipconfig /all` aus.

Kontrolliere die IPv4- und IP-v6-Adressen.

Eine Verbindungslokale IPv6-Adresse wird auch erzeugt, wenn _____

Eine temporäre IPv6-Adresse erhält der Adapter, wenn eine Verbindung besteht.



Ist keine IPv4-Adresse vorhanden, kontrolliere _____ (IPv4).

Hinweis: in den Netzwerkeinstellungen des Adapters kann man auch manuell eine IP-Adresse angeben: Öffne die Interneteneinstellungen (IPv4) und dort die Eigenschaften dazu. Hier gibst du eine IP-Adresse an (z. B. 192.168.0.10). Die Subnetzmaske ist üblicherweise 255.255.255.0. Unter *Standardgateway* ist die IP-Adresse des Routers einzutragen (z. B. 192.168.2.1)

- Besteht eine Verbindung zum _____ (OSI-Schicht __)?

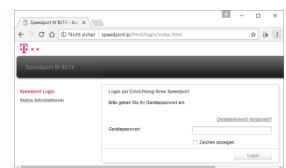
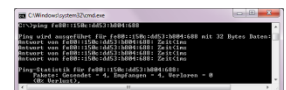
- WLAN-Router für Heimnetzwerke haben häufig die IPv4-Adressen 192.168.0.1, 192.168.2.1 oder 192.168.178.1.

Der Router sollte auf das Befehlszeilenkommando z. B. `ping 192.168.2.1` antworten.

- Wird bei Eingabe der IP-Adresse des WLAN-Routers in der Adresszeile des Browsers der Startbildschirm angezeigt?

Nach dem Login wird meist eine Übersichtsseite angezeigt, in der u. a. angegeben wird, ob eine Internetverbindung besteht.

In den Netzwerk-Details kann man auch überprüfen, ob der Router eine öffentliche IP-Adresse erhalten hat.



- Besteht keine Verbindung zum Internet, den WLAN-Router neu starten. An einem Router, der zuvor funktioniert hat, nichts neu konfigurieren, wenn du nicht genau weißt, was du tust!

- Es kann auch vorkommen, dass der Virenschanner nach einem Update die Verbindung zum Router blockiert. Dieser kann zum Test kurz beendet werden. Dann aber sofort wieder aktivieren!



2.5.1 Datennetze I

Arbeitsblatt 12: Zusammenfassende Aufgaben zu den OSI-Schichten 3 und 4

3. Dein Onkel hat sich für die auf Dauer solideste Lösung entschieden, ein Twisted-Pair- Kabel in das Arbeitszimmer gelegt und dort eine Ethernet-Anschlussdose installiert.
(vgl. Arbeitsblatt 07: Zusammenfassende Aufgaben zu den OSI-Schichten 1 und 2, S. 2 und 3)
Da er einen alten WLAN-Router übrig hatte, musste er sich auch keinen WLAN Access Point kaufen.
Jetzt hat er zwar Zugriff zum WLAN des alten Routers, aber keine Internetverbindung.
Der alte WLAN-Router hat die folgenden IPv4-Einstellungen:

The screenshot shows the FRITZ!Box 3390 web interface. The left sidebar contains navigation links: Übersicht, Internet, Heimnetz, Netzwerk (selected), USB-Geräte, Speicher (NAS), Mediaserver, FRITZ!Box-Name, WLAN, Diagnose, and System. The main content area is titled 'IPv4-Einstellungen'. It includes a warning: 'Achtung! Änderungen auf dieser Seite können dazu führen, dass die FRITZ!Box nicht mehr erreichbar ist. Beachten Sie unbedingt die Hilfe, bevor Sie Änderungen vornehmen.' Below this, the 'Heimnetz' section shows the IPv4 address set to 192.168.178.1 with a subnet mask of 255.255.255.0. The DHCP server is activated, and it is configured to assign addresses from 192.168.178.20 to 192.168.178.200 for a duration of 10 days.

Die IP-Einstellungen des aktuellen WLAN-Routers, der mit dem Internet verbunden ist:

The screenshot shows the Speedport W 921V web interface. The top navigation bar includes links for Übersicht, Internet, Telefonie, Heimnetzwerk (selected), and Einstellungen. The left sidebar lists: WLAN-Grundeinstellungen, WLAN-Zugriff verwalten, Heimnetzwerk (LAN) (selected), and Netzwerkspeicher. The main content area is titled 'Einstellungen zum Heimnetzwerk (LAN)'. It includes a link 'Was ist das Heimnetzwerk (LAN)?'. Below this, the 'Übersicht der Geräte im Heimnetzwerk' section shows the router's name and address. The 'Name und Adresse des Routers' section lists the router's name (Speedport_W_921V_1_43_000) and its MAC addresses for LAN, WAN, and WLAN. The 'Lokale IPv4-Adresse' is set to 192.168.2.1. The 'Lokale IPv6-Adresse (ULA)' is set to fd90:2906:4a75::1. The 'Nutzbarer IPv6-Adressbereich für Heimnetzwerk' is set to 2003:0086:2e2e:c0fe::/64. The interface also includes a 'Sicherheits-Status' section showing 'Firewall aktiv' and 'WLAN verschlüsselt'. At the bottom, there are buttons for 'Abbrechen' and 'Speichern', and a link to 'DHCP'.

Hinweis: Denke an deine Erfahrungen im Simulationsprogramm FILIUS.
(vgl. Arbeitsblatt 10: Simulation von Netzwerken mit FILIUS II, Seite 2)



2.5.1 Datennetze I

Arbeitsblatt 12: Zusammenfassende Aufgaben zu den OSI-Schichten 3 und 4

- Erläutere die Ursache des Problems.

- Nenne eine Möglichkeit, das Problem zu beheben.

Hinweis: Im Arbeitsblatt 10 sollte ein Class-B-Netz für eine größere Anzahl an Teilnehmern erstellt werden. Deshalb wurde das Problem durch Änderung der Subnetzmaske auf 255.255.0.0 gelöst. Für die überschaubare Anzahl an Geräten hier genügt aber ein Class-C-Netz.

Hinweis: Vor der Festlegung sollte man den Adressbereich für den DHCP-Server des Speedports kontrollieren, um Adresskollisionen zu vermeiden.

Der Adressbereich ist hier 192.168.2.20 bis 192.168.2.99.

4. Dein Onkel hat sich wie gewünscht eine Rollladensteuerung und vernetzte Rauchmelder installieren lassen. Außerdem gibt es zwei WLAN-Schaltsteckdosen pro Zimmer, die sich mit einer App steuern lassen. (vgl. Arbeitsblatt 07: Zusammenfassende Aufgaben zu den OSI-Schichten 1 und 2, S. 3 unten) Da du dich mit Hilfe von Fachzeitschriften über neue Entwicklungen auf dem Laufenden hältst, ist dir dieser Artikel noch gewärtig:

„Ungeahnter Mehrwert: Die (von einem großen Discounter) im Januar verkauften WLAN-Schaltsteckdosen enthalten ein nirgends dokumentiertes, nur mit Standard-Passwort gesichertes Web-Frontend. Darüber gelangt man sogar an das WLAN-Passwort.“ (c't 2017, Heft 8, S. 71)

„Überraschung: Dass (die schaltbare Steckdose eines angesehenen Herstellers) seit Jahren ein Mikrofon enthält, um nach einem Firmware-Update als Klatschschalter arbeiten zu können, erwähnen weder die Verpackung noch das Handbuch.“ (c't 2017, Heft 8, S. 73)

- Werden Geräte untereinander vernetzt und sind über das Internet erreichbar, spricht man vom **Internet of Things (IoT)**. Warum sind die in den Artikeln genannten Eigenschaften bei IoT-Geräten besonders gefährlich?

- IoT-Geräte stellen oft ein Sicherheitsrisiko dar. Das betrifft sowohl Spionage als auch Sabotage. (vgl. Arbeitsblatt 1.8 – 12 Risiken im Umgang mit Daten, S. 4)

- Verschlüsselungstrojaner und Computerviren:

- Diebstahl von Zugangsdaten:



2.5.1 Datennetze I

Arbeitsblatt 12: Zusammenfassende Aufgaben zu den OSI-Schichten 3 und 4

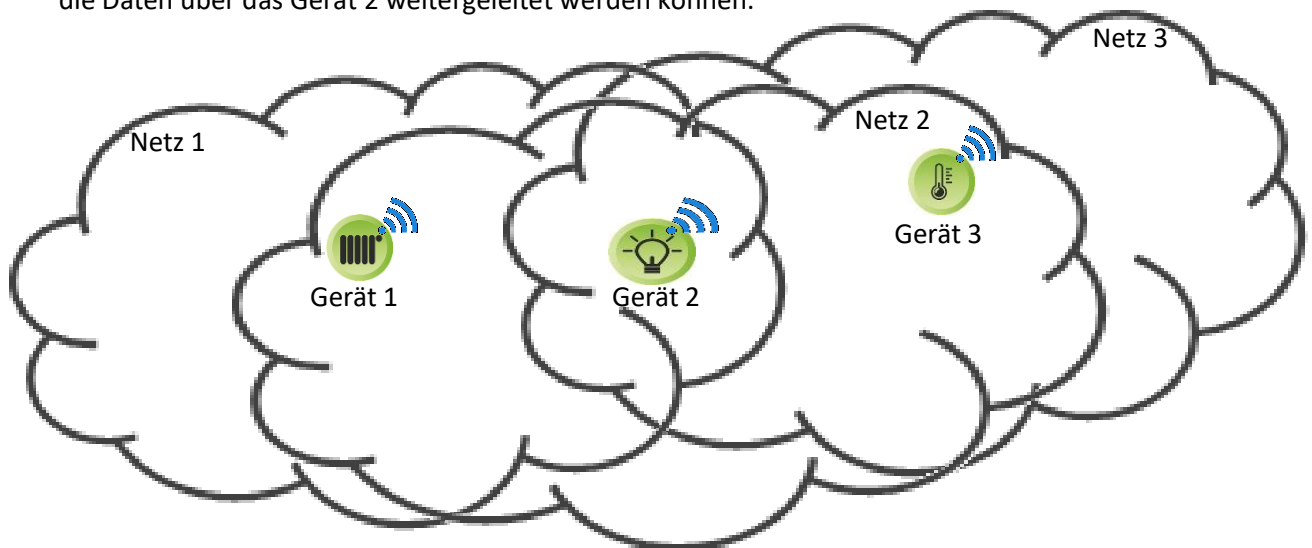
5. Anhand verschiedener Smarthome-Komponenten kannst du dir auch vorstellen, wie ein vermaschtes Netz funktioniert. Die Teilnehmer in dem Netz sind mehrere Lampen und Heizkörperthermostate sowie ein WLAN-Router, ein Temperaturfühler, ein Smartphone, ein Laptop, eine Stereoanlage, eine Schließanlage, ein Rollladen, ein Kühlschrank, eine Waschmaschine und ein Garagentor.

Man spricht hier von **Mesh-Netzen** (dt. „Masche“ oder „Netz“). Da sich diese Netze selbstständig aufbauen und konfigurieren, nennt man auch *Ad-hoc-Netze*. Die Daten werden von Teilnehmer zu Teilnehmer weitergereicht, bis sie ihren Empfänger erreicht haben.

Wegen der kürzeren Entfernungen kann die Sendeleistung niedriger sein als bei der Zelltopologie und der Energieverbrauch sinkt. Das ist besonders wichtig bei Komponenten, die mit einer Batterie bzw. Knopfzelle betrieben werden wie z. B. Heizkörperthermostate oder Rauchmelder. Auch verteilt sich die Datenlast besser als in Netzen mit einem zentralen Knoten. Dafür ist die Verwaltung aufwändiger, weil die Weiterleitung gewährleistet werden muss und sich Knoten bewegen, hinzukommen oder ausfallen können. Dafür werden beim Ausfall einer Verbindung die Daten über andere Teilnehmer weitergeleitet, ein Mesh-Netz ist also sehr zuverlässig.


Derzeit hat sich leider noch keine Vernetzungstechnik durchgesetzt (Stand September 2017). Deshalb sind viele Smarthome-Komponenten nicht miteinander kompatibel. Derzeit konkurrieren vor allem die Automationsprotokolle *ZigBee*, *Z-Wave* und *Bluetooth Low Energy* mit Mesh-Netzwerk (*BLE*).

Ein einfaches Beispiel: Das Gerät 1 (Heizkörperthermostat) ist nicht im Empfangsbereich des Netzes 3 (Temperaturfühler). Aber beide Geräte sind im Empfangsbereich des Netzes 2 (Beleuchtung), so dass die Daten über das Gerät 2 weitergeleitet werden können.



Für die Vernetzung vieler Geräte ist die Darstellung der Funknetze mit Wolken zu unübersichtlich. Stattdessen wird mit Linien eine Verbindung gezeichnet, wenn Geräte jeweils im Empfangsbereich des anderen Geräts sind:





2.5.1 Datennetze I

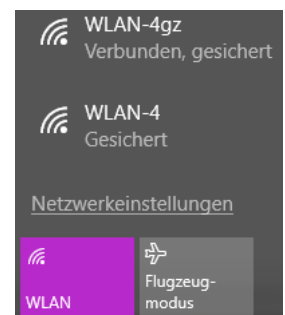
Arbeitsblatt 12: Zusammenfassende Aufgaben zu den OSI-Schichten 3 und 4


Im Arbeitsblatt 07 wurde bereits thematisiert, dass IoT-Geräte angreifbar sind und ein Sicherheitsrisiko darstellen. Auch wurde angesprochen, dass man zwei getrennte Netze bzw. Zonen installieren kann. Die Vorgehensweise dazu wird in den folgenden Aufgabenstellungen geklärt.

6. Manche Router verfügen über die Option, einen **Gastzugang** zu aktivieren.

The screenshot shows the FRITZ!Box 3390 web interface. The top navigation bar includes the FRITZ! logo and the model name. Below it, there's a status bar with 'Angemeldet' and links to 'FRITZ!Box', 'FRITZ!NAS', and 'MyFRITZ!'. A left sidebar contains a menu with 'Übersicht', 'Internet', 'Heimnetz', 'Netzwerk' (highlighted), 'USB-Geräte', 'Speicher (NAS)', 'Mediaserver', 'FRITZ!Box-Name', 'WLAN', 'Diagnose', and 'System'. The main content area is titled 'IPv4-Einstellungen'. It contains a warning about changes affecting network reachability. Under 'Heimnetz', there are input fields for IPv4 address (192.168.178.1) and subnet mask (255.255.255.0). A checkbox for 'DHCP-Server aktivieren' is checked. Below it, DHCP settings are shown: 'DHCP-Server vergibt IPv4-Adressen' from 192.168.178.20 to 192.168.178.200, valid for 10 days. Under 'Gastnetz', similar fields are shown for a separate network (192.168.179.1). At the bottom right are 'OK' and 'Abbrechen' buttons. A footer bar contains links like 'Ansicht Erweitert', 'Inhalt', 'Handbuch', etc.

- Erläutere den Vorteil der Verwendung des Gastnetzes in Bezug auf die Sicherheit.






2.5.1 Datennetze I

Arbeitsblatt 12: Zusammenfassende Aufgaben zu den OSI-Schichten 3 und 4

7. Mit einem zweiten Router kann eine **Routerkaskade** gebildet und ein zweites WLAN aufgespannt werden. Viele Router verfügen über einen LAN-Port, der als WAN-Anschluss dienen kann:



- Bei dem Speedport rechts ist ein Port mit WAN/LAN1 beschriftet. Der gewünschte Verbindungsmodus (Switch oder Router) wird automatisch erkannt.
- Bei der FRITZ!Box links ist der betreffend Port nur mit LAN1 beschriftet. Wenn eine WAN-Verbindung über einen Router hergestellt werden soll, muss der Port entsprechend konfiguriert werden:

- Eventuell kann die Bildung einer Routerkaskade im Computerraum nachvollzogen werden.

Hinweis: Schulnetze sind umfangreicher als Heimnetze. Hier werden deshalb oft Class-B-Adressen mit der Subnetzmaske 255.255.0.0 verwendet.

- Es gibt Router für den Einsatz in größeren Netzen, die mehrere Zonen im Netzwerk von vorneherein unterstützen. Diese sind aber teurer als Heimrouter und um sie zu konfigurieren, muss man sich intensiv mit IP-Adressierung beschäftigen.



2.5.1 Datennetze I

Arbeitsblatt 12: Zusammenfassende Aufgaben zu den OSI-Schichten 3 und 4

Der Unterschied wird an Hand der folgenden Grafiken nochmals klarer.

- Bei der Kopplung der beiden Router über einen Switch befinden sich alle Geräte in einem Netz und damit sind alle Geräte sichtbar:

The screenshot shows the Fritz!Box 3390 web interface. The left sidebar contains navigation links: Übersicht, Internet, Heimnetz, Netzwerk (selected), USB-Geräte, Speicher (NAS), Mediaserver, Fritz!Box-Name, WLAN, Diagnose, and System. The main content area is titled 'Netzwerk' and has two tabs: 'Geräte und Benutzer' (selected) and 'Netzwerkeinstellungen'. A table lists connected devices:

Name	IP-Adresse	MAC-Adresse	Verbindung	Eigenschaften
android-ac86bce08b3...	192.168.2.108	88:83:22:32:D4:1A	LAN 4 mit 100 Mbit/s	[Edit] [X]
android-ee538d5d03d...	192.168.2.110	EC:10:7B:40:9A:3E	LAN 4 mit 100 Mbit/s	[Edit] [X]
PC-192-168-2-1	192.168.2.1	74:31:70:E7:CB:71	LAN 4 mit 100 Mbit/s	[Edit] [X]
PC-192-168-2-104	192.168.2.104	94:44:52:43:D7:11	LAN 4 mit 100 Mbit/s	[Edit] [X]
th-nb-4	192.168.2.20	C4:17:FE:60:E5:78	WLAN 65 Mbit/s	[Edit] [X]

Below the table, a message states: 'Hier können Sie Netzwerkgeräte hinzufügen, denen eine feste IP-Adresse zugewiesen werden soll und die bisher noch keinen Kontakt zur Fritz!Box hatten.' There are buttons for 'Gerät hinzufügen' and 'Aktualisieren'. At the bottom, a status bar shows: 'Ansicht: Erweitert | Inhalt | Handbuch | Tipps&Tricks | Newsletter | avm.de'.

Hinweise:

- Die beiden Geräte „android...“ sind zwei Smartphones.
- PC-192-168-2-1 ist der andere WLAN-Router, an den
- ein Drucker mit der Bezeichnung PC-192-168-2-104 angeschlossen ist.
- th-nb-4 ist ein Windows-Rechner, der mit dem Gastnetz verbunden ist.

8. Danach wurde das Gastnetz aktiviert:

The screenshot shows the same Fritz!Box 3390 web interface, but the network overview has changed. The table now only contains one device:

Name	IP-Adresse	MAC-Adresse	Verbindung	Eigenschaften
th-nb-4	192.168.178.20	C4:17:FE:60:E5:78	WLAN 65 Mbit/s	[Edit] [X]

The message below the table remains the same: 'Hier können Sie Netzwerkgeräte hinzufügen, denen eine feste IP-Adresse zugewiesen werden soll und die bisher noch keinen Kontakt zur Fritz!Box hatten.' The buttons 'Gerät hinzufügen' and 'Aktualisieren' are still present. The status bar at the bottom is identical to the previous screenshot: 'Ansicht: Erweitert | Inhalt | Handbuch | Tipps&Tricks | Newsletter | avm.de'.

- Beschreibe den Unterschied zwischen den beiden Grafiken.

Nach der Aktivierung des Gastnetzes _____